

**Series HMJ/3****SET-3**कोड नं. **55/3/3**
Code No.रोल नं.
Roll No.

--	--	--	--	--	--	--	--	--	--

परीक्षार्थी कोड को उत्तर-पुस्तिका के मुख-पृष्ठ पर अवश्य लिखें ।

Candidates must write the Code on the title page of the answer-book.

नोट	NOTE
(I) कृपया जाँच कर लें कि इस प्रश्न-पत्र में मुद्रित पृष्ठ 19 हैं ।	(I) Please check that this question paper contains 19 printed pages.
(II) प्रश्न-पत्र में दाहिने हाथ की ओर दिए गए कोड नम्बर को छात्र उत्तर-पुस्तिका के मुख-पृष्ठ पर लिखें ।	(II) Code number given on the right hand side of the question paper should be written on the title page of the answer-book by the candidate.
(III) कृपया जाँच कर लें कि इस प्रश्न-पत्र में 37 प्रश्न हैं ।	(III) Please check that this question paper contains 37 questions.
(IV) कृपया प्रश्न का उत्तर लिखना शुरू करने से पहले, उत्तर-पुस्तिका में प्रश्न का क्रमांक अवश्य लिखें ।	(IV) Please write down the Serial Number of the question in the answer-book before attempting it.
(V) इस प्रश्न-पत्र को पढ़ने के लिए 15 मिनट का समय दिया गया है । प्रश्न-पत्र का वितरण पूर्वाह्न में 10.15 बजे किया जाएगा । 10.15 बजे से 10.30 बजे तक छात्र केवल प्रश्न-पत्र को पढ़ेंगे और इस अवधि के दौरान वे उत्तर-पुस्तिका पर कोई उत्तर नहीं लिखेंगे ।	(V) 15 minute time has been allotted to read this question paper. The question paper will be distributed at 10.15 a.m. From 10.15 a.m. to 10.30 a.m., the students will read the question paper only and will not write any answer on the answer-book during this period.

**भौतिक विज्ञान (सैद्धान्तिक)****PHYSICS (Theory)**

निर्धारित समय : 3 घण्टे

अधिकतम अंक : 70

Time allowed : 3 hours

Maximum Marks : 70



सामान्य निर्देश:

निम्नलिखित निर्देशों को बहुत सावधानी से पढ़िए और उनका सख्ती से पालन कीजिए :

- (i) यह प्रश्न-पत्र चार खण्डों में विभाजित किया गया है – क, ख, ग और घ ।
- (ii) इस प्रश्न-पत्र में 37 प्रश्न हैं । सभी प्रश्न अनिवार्य हैं ।
- (iii) खण्ड क – प्रश्न संख्या 1 से 20 तक अति लघु-उत्तरीय प्रश्न हैं, प्रत्येक प्रश्न 1 अंक का है ।
- (iv) खण्ड ख – प्रश्न संख्या 21 से 27 तक लघु-उत्तरीय प्रश्न हैं, प्रत्येक प्रश्न 2 अंकों का है ।
- (v) खण्ड ग – प्रश्न संख्या 28 से 34 तक दीर्घ-उत्तरीय प्रकार के प्रश्न हैं, प्रत्येक प्रश्न 3 अंकों का है ।
- (vi) खण्ड घ – प्रश्न संख्या 35 से 37 तक भी दीर्घ-उत्तरीय प्रकार के प्रश्न हैं, प्रत्येक प्रश्न 5 अंकों का है ।
- (vii) प्रश्न-पत्र में कोई समग्र विकल्प नहीं है । तथापि, एक-एक अंक के दो प्रश्नों में, दो-दो अंकों वाले दो प्रश्नों में, तीन-तीन अंकों वाले एक प्रश्न में तथा पाँच-पाँच अंकों वाले तीनों प्रश्नों में आंतरिक विकल्प दिया गया है । ऐसे प्रश्नों में केवल एक ही विकल्प का उत्तर दीजिए ।
- (viii) इसके अतिरिक्त, आवश्यकतानुसार, प्रत्येक खण्ड और प्रश्न के साथ यथोचित निर्देश दिए गए हैं ।
- (ix) कैल्कुलेटरों अथवा लॉग टेबलों के प्रयोग की अनुमति नहीं है ।
- (x) जहाँ आवश्यक हो, आप निम्नलिखित भौतिक नियतांकों के मानों का उपयोग कर सकते हैं :

$$c = 3 \times 10^8 \text{ m/s}$$

$$h = 6.63 \times 10^{-34} \text{ Js}$$

$$e = 1.6 \times 10^{-19} \text{ C}$$

$$\mu_0 = 4\pi \times 10^{-7} \text{ T m A}^{-1}$$

$$\epsilon_0 = 8.854 \times 10^{-12} \text{ C}^2 \text{ N}^{-1} \text{ m}^{-2}$$

$$\frac{1}{4\pi\epsilon_0} = 9 \times 10^9 \text{ N m}^2 \text{ C}^{-2}$$

$$\text{इलेक्ट्रॉन का द्रव्यमान (m}_e\text{)} = 9.1 \times 10^{-31} \text{ kg}$$

$$\text{न्यूट्रॉन का द्रव्यमान} = 1.675 \times 10^{-27} \text{ kg}$$

$$\text{प्रोटॉन का द्रव्यमान} = 1.673 \times 10^{-27} \text{ kg}$$

$$\text{आवोगाद्रो संख्या} = 6.023 \times 10^{23} \text{ प्रति ग्राम मोल}$$

$$\text{बोल्ट्ज़मान नियतांक} = 1.38 \times 10^{-23} \text{ JK}^{-1}$$



General Instructions :

Read the following instructions very carefully and strictly follow them :

- (i) This question paper comprises **four** Sections – **A, B, C and D**.
- (ii) There are **37** questions in the question paper. **All** questions are compulsory.
- (iii) **Section A** – Questions no. **1 to 20** are very short answer type questions, carrying **one** mark each.
- (iv) **Section B** – Questions no. **21 to 27** are short answer type questions, carrying **two** marks each.
- (v) **Section C** – Questions no. **28 to 34** are long answer type questions, carrying **three** marks each.
- (vi) **Section D** – Questions no. **35 to 37** are also long answer type questions, carrying **five** marks each.
- (vii) There is no overall choice in the question paper. However, an internal choice has been provided in 2 questions of 1 mark, 2 questions of 2 marks, 1 question of three marks and all the 3 questions of five marks. You have to attempt only one of the choices in such questions.
- (viii) In addition to this, separate instructions are given with each section and question, wherever necessary.
- (ix) Use of calculators and log tables is **not** permitted.
- (x) You may use the following values of physical constants wherever necessary.

$$c = 3 \times 10^8 \text{ m/s}$$

$$h = 6.63 \times 10^{-34} \text{ Js}$$

$$e = 1.6 \times 10^{-19} \text{ C}$$

$$\mu_0 = 4\pi \times 10^{-7} \text{ T m A}^{-1}$$

$$\epsilon_0 = 8.854 \times 10^{-12} \text{ C}^2 \text{ N}^{-1} \text{ m}^{-2}$$

$$\frac{1}{4\pi\epsilon_0} = 9 \times 10^9 \text{ N m}^2 \text{ C}^{-2}$$

$$\text{Mass of electron (m}_e\text{)} = 9.1 \times 10^{-31} \text{ kg}$$

$$\text{Mass of neutron} = 1.675 \times 10^{-27} \text{ kg}$$

$$\text{Mass of proton} = 1.673 \times 10^{-27} \text{ kg}$$

$$\text{Avogadro's number} = 6.023 \times 10^{23} \text{ per gram mole}$$

$$\text{Boltzmann constant} = 1.38 \times 10^{-23} \text{ JK}^{-1}$$



खण्ड क

नोट: नीचे दिए गए प्रत्येक प्रश्न का सबसे अधिक उपयुक्त विकल्प चुनिए :

1. त्रिज्या R के किसी गोलीय खोल के पृष्ठ पर आवेश Q एकसमान वितरित है। किसी परीक्षण आवेश Q_0 को इसके केन्द्र से पृष्ठ पर लाने में किया गया कार्य होगा

1

(A) $\frac{1}{4\pi\epsilon_0} \frac{QQ_0}{R}$

(B) $\frac{1}{4\pi\epsilon_0} \frac{QQ_0}{2R}$

(C) $\frac{QQ_0}{\epsilon_0 R}$

(D) शून्य

2. किसी ज़ेनर डायोड में

1

(A) p-फलक अत्यधिक अपमिश्रित तथा n-फलक अल्प अपमिश्रित होता है।

(B) n-फलक अत्यधिक अपमिश्रित तथा p-फलक अल्प अपमिश्रित होता है।

(C) n-फलक और p-फलक दोनों ही अत्यधिक अपमिश्रित होते हैं।

(D) n-फलक और p-फलक दोनों ही अल्प अपमिश्रित होते हैं।

3. दो बड़े चालक गोले जिन पर आवेश Q_1 और Q_2 हैं, को एक-दूसरे से इनके केन्द्रों के बीच दूरी r पर रखा गया है। इन दोनों गोलों के बीच स्थिरवैद्युत बल का परिमाण तथ्यतः

1

$\frac{1}{4\pi\epsilon_0} \frac{Q_1 Q_2}{r^2}$ नहीं होता है क्योंकि

(A) ये बिन्दु आवेश नहीं हैं।

(B) इन गोलों पर आवेश वितरण एकसमान नहीं है।

(C) इन गोलों पर आवेश इन गोलों के केन्द्रों की ओर स्थानान्तरित हो जाते हैं।

(D) आवेश गोलों के उस भाग की ओर स्थानान्तरित हो जाते हैं जो एक-दूसरे के निकट और आमने-सामने हैं।

4. किसी आवेशित समान्तर पट्टिका संधारित्र की दो पट्टिकाओं के बीच किसी आवेशित कण को रखा गया है। यह कण बल F का अनुभव करता है। यदि एक पट्टिका को हटा दिया जाए, तो इस कण पर आरोपित बल होगा

1

(A) $2F$

(B) F

(C) $\frac{F}{2}$

(D) शून्य



SECTION A

Note : Select the most appropriate option from those given below each question :

1. A charge Q is uniformly distributed over the surface of a spherical shell of radius R . The work done in bringing a test charge Q_0 from its centre to its surface is 1

(A) $\frac{1}{4\pi\epsilon_0} \frac{QQ_0}{R}$

(B) $\frac{1}{4\pi\epsilon_0} \frac{QQ_0}{2R}$

(C) $\frac{QQ_0}{\epsilon_0 R}$

(D) Zero

2. A zener diode has 1

(A) heavily doped p-side and lightly doped n-side.

(B) heavily doped n-side and lightly doped p-side.

(C) heavily doped n-side as well as p-side.

(D) lightly doped n-side as well as p-side.

3. Two large conducting spheres carrying charges Q_1 and Q_2 are kept with their centres r distance apart. The magnitude of electrostatic force between them is not exactly $\frac{1}{4\pi\epsilon_0} \frac{Q_1Q_2}{r^2}$ because 1

(A) these are not point charges.

(B) charge distribution on the spheres is not uniform.

(C) charges on spheres will shift towards the centres of their respective spheres.

(D) charges will shift towards the portions of the spheres which are closer and facing towards each other.

4. A charged particle is placed between the two plates of a charged parallel plate capacitor. It experiences a force F . If one plate is removed, then the force on the particle will be 1

(A) $2F$

(B) F

(C) $\frac{F}{2}$

(D) Zero



5. हाइड्रोजन परमाणु के बोर मॉडल में, n वीं विविकृत कक्षा में इलेक्ट्रॉन की कुल ऊर्जा निम्नलिखित में से किसके अनुक्रमानुपाती होती है ?

1

- (A) n (B) $\frac{1}{n}$
(C) n^2 (D) $\frac{1}{n^2}$

6. 16Ω प्रतिरोध के किसी एकसमान तार को किसी वृत्त की आकृति में मोड़ दिया गया है। इस वृत्त को, किसी परिपथ में, इसके व्यासतः दो विपरीत बिन्दुओं के साथ संयोजित करने पर इसका प्रभावी प्रतिरोध होगा

1

- (A) 8Ω (B) 16Ω
(C) 4Ω (D) 2Ω

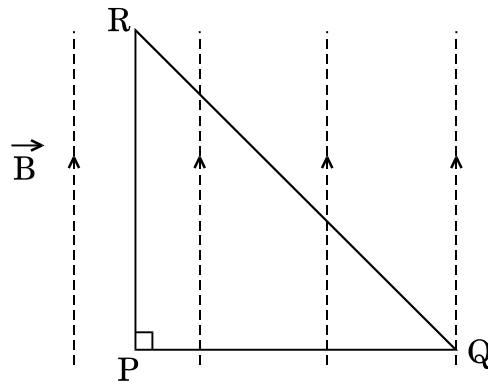
7. किसी क्षेत्र में चुम्बकीय क्षेत्र एकसमान है। कोई प्रोटॉन इस क्षेत्र में किसी वेग से चुम्बकीय क्षेत्र की दिशा से 45° का कोण बनाते हुए प्रवेश करता है। इस क्षेत्र में यह प्रोटॉन जिस पथ पर गति करेगा, उसकी आकृति होगी

1

- (A) सरल रेखा
(B) वृत्त
(C) सर्पिल
(D) कुण्डलिनी

8. कोई धारावाही समद्विबाहु समकोणिक पाश PQR किसी एकसमान चुम्बकीय क्षेत्र \vec{B} , जो PR के अनुदिश संकेत करता है, में स्थित है। यदि भुजा PQ पर कार्यरत चुम्बकीय बल F है, तो भुजा QR पर कार्यरत चुम्बकीय बल होगा

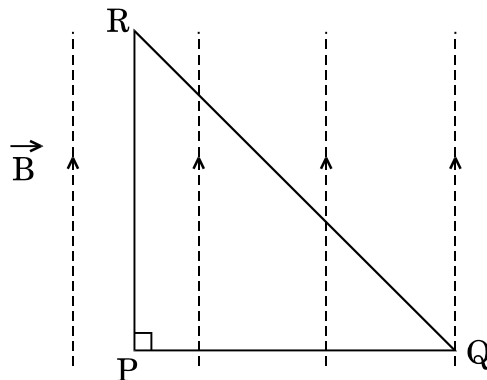
1



- (A) F (B) $\frac{F}{\sqrt{2}}$
(C) $\sqrt{2} F$ (D) $-F$



5. In Bohr's model of hydrogen atom, the total energy of the electron in n^{th} discrete orbit is proportional to 1
- (A) n (B) $\frac{1}{n}$
(C) n^2 (D) $\frac{1}{n^2}$
6. A uniform wire of 16Ω resistance is bent round in the form of a circle. When connected in a circuit between its two diametrically opposite points, its effective resistance will be 1
- (A) 8Ω (B) 16Ω
(C) 4Ω (D) 2Ω
7. A region has a uniform magnetic field in it. A proton enters into the region with velocity making an angle of 45° with the direction of the magnetic field. In this region the proton will move on a path having the shape of a 1
- (A) straight line
(B) circle
(C) spiral
(D) helix
8. An isosceles right angled current carrying loop PQR is placed in a uniform magnetic field \vec{B} pointing along PR. If the magnetic force acting on the arm PQ is F , then the magnetic force which acts on the arm QR will be 1



- (A) F (B) $\frac{F}{\sqrt{2}}$
(C) $\sqrt{2}F$ (D) $-F$



9. 1 C आवेश से निर्गत विद्युत् फ्लक्स होता है 1
- (A) $\frac{1}{\epsilon_0}$
- (B) 4π
- (C) $\frac{4\pi}{\epsilon_0}$
- (D) ϵ_0
10. $m^2V^{-1}s^{-1}$ निम्नलिखित में से किसका SI मात्रक है ? 1
- (A) अपवाह वेग
- (B) गतिशीलता
- (C) प्रतिरोधकता
- (D) विभव प्रवणता

नोट : उपयुक्त उत्तर से रिक्त स्थानों को भरिए :

11. प्रकाश के किसी बिन्दु स्रोत से उत्पन्न होते हुए तरंगाग्र की आकृति _____ होती है । 1
12. प्रकाश-विद्युत् प्रभाव में, उत्सर्जित प्रकाशिक-इलेक्ट्रॉनों की संख्या आपतित प्रकाश के/की _____ के अनुक्रमानुपाती होती है । 1

अथवा

- देहली आवृत्ति ν_0 ($\nu > \nu_0$) के किसी प्रकाश-सुग्राही पृष्ठ पर आवृत्ति ν का प्रकाश आपतन करता है । उत्सर्जित प्रकाशिक-इलेक्ट्रॉनों की गतिज ऊर्जा का मान _____ होगा । 1
13. यंग के द्वि-झिरी प्रयोग में, प्रकाश के एकवर्णी स्रोत को कम तरंगदैर्घ्य के किसी अन्य एकवर्णी प्रकाश स्रोत से प्रतिस्थापित करने पर फ्रिन्ज चौड़ाई _____ हो जाती है । 1
14. किसी अभिसारी लेंस के पदार्थ का अपवर्तनांक 1.5 है । यदि वायु को अपवर्तनांक 1.6 के किसी अन्य माध्यम से प्रतिस्थापित कर दिया जाए, तो यह लेंस _____ लेंस की भाँति व्यवहार करेगा । 1
15. वायु-काँच अन्तरापृष्ठ के लिए ब्रुस्टर कोण का मान $\frac{\pi}{3}$ है, अतः काँच का अपवर्तनांक _____ है । 1

नोट : निम्नलिखित के उत्तर दीजिए :

16. अनुनाद पर किसी LCR श्रेणी परिपथ का शक्ति गुणांक का मान क्या होता है ? 1



9. The electric flux emerging out from 1 C charge is 1
- (A) $\frac{1}{\epsilon_0}$
- (B) 4π
- (C) $\frac{4\pi}{\epsilon_0}$
- (D) ϵ_0
10. $\text{m}^2\text{V}^{-1}\text{s}^{-1}$ is the SI unit of which of the following ? 1
- (A) Drift velocity
- (B) Mobility
- (C) Resistivity
- (D) Potential gradient

Note : Fill in the blanks with appropriate answer :

11. The shape of the wavefront originating from a point source of light is _____ . 1
12. In photoelectric effect, the number of emitted photoelectrons is proportional to _____ of incident light. 1

OR

- Light of frequency ν is incident on a photosensitive surface of threshold frequency ν_0 ($\nu > \nu_0$). The value of kinetic energy of the emitted photoelectrons will be _____ . 1
13. In Young's double slit experiment, if the monochromatic source of light is replaced by another monochromatic source of shorter wavelength, the value of fringe width will _____ . 1
14. The refractive index of the material of a converging lens is 1.5. If air is replaced by a medium of refractive index 1.6, then the lens will now behave as a _____ lens. 1
15. The value of Brewster's angle for air-glass interface is $\frac{\pi}{3}$, hence the refractive index of glass is _____ . 1

Note : Answer the following :

16. What is the value of power factor of a series LCR circuit at resonance ? 1



17. किसी प्रत्यावर्ती धारा (ac) जनित्र की आर्मेचर कुण्डली के चुम्बकीय क्षेत्र के सापेक्ष किस अभिविन्यास में प्रेरित वि.वा.बल (emf) अधिकतम होगा ? 1
18. विद्युत्-चुम्बकीय तरंगों को उत्पन्न करने में भारतीय भौतिकी विज्ञानी जे.सी. बोस के योगदान का उल्लेख कीजिए । 1
19. किसी प्रत्यावर्ती धारा (ac) परिपथ में, अनुप्रयुक्त वोल्टता और प्रवाहित धारा क्रमशः $E = E_0 \sin \omega t$ और $I = I_0 \sin (\omega t + \frac{\pi}{2})$ हैं । इस परिपथ में एक चक्र में औसत उपभुक्त शक्ति क्या होगी ? 1

अथवा

- क्या होता है जब किसी धातु के गुटके को किसी परिवर्ती चुम्बकीय क्षेत्र में रखा जाता है ? 1
20. उन विद्युत्-चुम्बकीय विकिरणों का नाम लिखिए जिनसे आतप-ताप (धूप-ताम्रता) होता है । इनका तरंगदैर्घ्य परिसर लिखिए । 1

खण्ड ख

21. तीन चालकों X, Y और Z में मुक्त इलेक्ट्रॉनों के संख्या घनत्व 4 : 1 : 8 के अनुपात में हैं । इनमें से किस चालक के लिए मुक्त इलेक्ट्रॉनों का विश्रांति-काल (a) अधिकतम, और (b) न्यूनतम होगा ? 2
22. f_1 फोकस दूरी का कोई अभिसारी लेंस f_2 फोकस दूरी ($f_1 > f_2$) के किसी अपसारी लेंस के समाक्ष सम्पर्क में रखा गया है । f_1 और f_2 के पदों में इस संयोजन की क्षमता और प्रकृति निर्धारित कीजिए । 2

अथवा

- किसी संयुक्त सूक्ष्मदर्शी की विभेदन क्षमता किस प्रकार प्रभावित होती है यदि (a) उपयोग किए गए प्रकाश की तरंगदैर्घ्य कम हो जाती है, और (b) इसके अभिदृश्यक लेंस का व्यास अधिक हो जाता है ? अपने उत्तरों की पुष्टि कीजिए । 2
23. (a) स्वप्रेरकत्व के SI मात्रक की परिभाषा लिखिए ।
(b) किसी परिनालिका का स्वप्रेरकत्व L है । यदि इस परिनालिका की प्रति एकांक लम्बाई में फेरों की संख्या को दुगुना तथा इसके अनुप्रस्थ-काट क्षेत्रफल को आधा कर दिया जाए, तो इसके नए प्रेरकत्व को प्राप्त कीजिए । 2
24. कोई हाइड्रोजन परमाणु अपनी तृतीय उत्तेजक अवस्था में है ।
(a) निम्नतम अवस्था में आने से पूर्व इससे कितनी स्पेक्ट्रमी रेखाएँ उत्सर्जित की जा सकती हैं ? इन संक्रमणों को ऊर्जा स्तर आरेख में दर्शाइए ।
(b) उपर्युक्त संक्रमणों में से किसमें सबसे छोटी तरंगदैर्घ्य की स्पेक्ट्रमी रेखा उत्सर्जित होगी ? 2



17. In which orientation of the armature coil of an ac generator relative to the magnetic field, will the induced emf be maximum ? 1
18. Mention the contribution of Indian physicist J.C. Bose in the production of electromagnetic waves. 1
19. In an ac circuit, the applied voltage and flowing current are $E = E_0 \sin \omega t$ and $I = I_0 \sin (\omega t + \frac{\pi}{2})$ respectively. What is the average power consumed in one cycle in this circuit ? 1

OR

What happens when a block of metal is kept in a varying magnetic field ? 1

20. Name the electromagnetic radiations which may cause sunburn. Write their wavelength range. 1

SECTION B

21. The number densities of free electrons in three conductors X, Y and Z are in the ratio 4 : 1 : 8, and their electrical conductivities are in the ratio 2 : 1 : 2. For which conductor will the relaxation time of free electrons be (a) maximum, and (b) minimum ? 2
22. A converging lens of focal length f_1 is placed coaxially in contact with a diverging lens of focal length f_2 ($f_1 > f_2$). Determine the power and nature of the combination in terms of f_1 and f_2 . 2

OR

How is the resolving power of a compound microscope affected if (a) wavelength of light used is decreased, and (b) the diameter of its objective lens is increased ? Justify your answers. 2

23. (a) Define the SI unit of self-inductance.
(b) The self-inductance of a solenoid is L. If the number of turns per unit length in it is doubled and the area of cross-section is halved, find the new inductance of the solenoid. 2
24. A hydrogen atom is in its third excited state.
(a) How many spectral lines can be emitted by it before coming to the ground state ? Show these transitions in the energy level diagram.
(b) In which of the above transitions will the spectral line of shortest wavelength be emitted ? 2



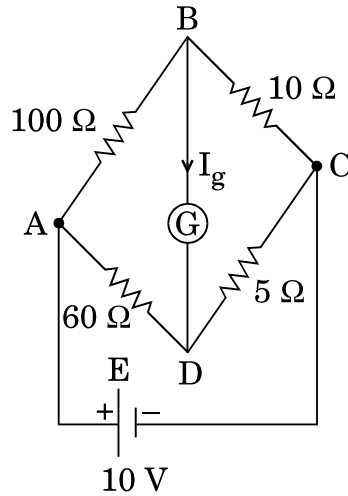
25. कोई दोलायमान आवेश किस प्रकार विद्युत्-चुम्बकीय तरंग विकिरित करता है ? दोलायमान आवेश की आवृत्ति तथा विकिरित तरंग की आवृत्ति के बीच संबंध दीजिए । 2

अथवा

- (a) इस तथ्य की संक्षेप में व्याख्या कीजिए कि विद्युत्-चुम्बकीय तरंगें ऊर्जा वहन करती हैं ।
(b) हम सूर्य की किरणों (धूप) के कारण दाब का अनुभव क्यों नहीं करते हैं ? 2
26. (a) द्रव्य तरंगों विद्युत्-चुम्बकीय तरंगों से किस रूप में भिन्न होती हैं ?
(b) यदि किसी कण की गतिज ऊर्जा को उसके प्रारम्भिक मान का $\frac{1}{4}$ कर दिया जाए, तो इस कण से संबद्ध दे ब्रॉग्ली तरंगदैर्घ्य अपने प्रारम्भिक मान की कितने गुनी हो जाएगी ? 2
27. दो सर्वसम छड़ें, जिनमें एक अनुचुम्बकीय पदार्थ की तथा दूसरी प्रतिचुम्बकीय पदार्थ की बनी है, किसी बाह्य एकसमान चुम्बकीय क्षेत्र में क्षेत्र के समान्तर रखी जाती हैं । प्रत्येक प्रकरण में चुम्बकीय क्षेत्र के पैटर्न में होने वाले रूपान्तरणों को आरेख खींचकर दर्शाइए । 2

खण्ड ग

28. किरखोफ के नियमों का उपयोग करके आरेख में दर्शाए गए परिपथ आरेख में 15Ω प्रतिरोध के गैल्वेनोमीटर से प्रवाहित धारा (I_g) परिकल्पित कीजिए । 3



29. उस डायोड का नाम लिखिए जो वोल्टता नियंत्रक के रूप में कार्य कर सकता है । नामांकित परिपथ आरेख की सहायता से इसकी कार्यविधि की व्याख्या कीजिए । इसका V-I अभिलाक्षणिक खींचिए । 3
30. (a) किसी पदार्थ के भौतिक घनत्व की तुलना में उसके नाभिकीय पदार्थ का घनत्व बहुत-बहुत अधिक होता है । व्याख्या कीजिए ।



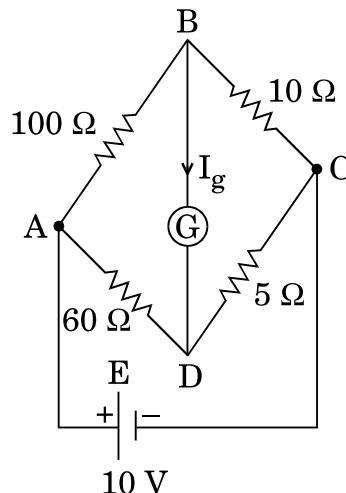
25. How does an oscillating charge radiate an electromagnetic wave ? Give the relation between the frequency of radiated wave and the frequency of oscillating charge. 2

OR

- (a) Explain briefly the fact that electromagnetic waves carry energy. 2
- (b) Why do we not feel the pressure due to sunshine ? 2
26. (a) In what ways are matter waves different from electromagnetic waves ?
- (b) If the kinetic energy of a particle is reduced to one-fourth $\left(\frac{1}{4}\right)$ of its initial value, how many times will the de Broglie wavelength associated with it become ? 2
27. Two identical bars, one of paramagnetic material and other of diamagnetic material are kept in a uniform external magnetic field parallel to it. Draw diagrammatically the modifications in the magnetic field pattern in each case. 2

SECTION C

28. Using Kirchoff's rules, calculate the current (I_g) that flows through the galvanometer of resistance 15Ω in the circuit diagram shown in the figure. 3



29. Name the diode which can act as a voltage regulator. Explain its working with the help of its labelled circuit diagram. Draw its $V - I$ characteristic. 3
30. (a) The density of the nuclear matter is tremendously larger than the physical density of the material. Explain.



- (b) नाभिकीय बल न्यूक्लियोनों के बीच कूलॉमी बल नहीं होते । व्याख्या कीजिए ।
- (c) किसी नाभिक के भीतर न्यूक्लियोनों के बीच की दूरी को फलन मानकर न्यूक्लियोनों के किसी युगल के बीच स्थितिज ऊर्जा का ग्राफ खींचिए । 3
31. द्रव्य तरंगें क्या हैं ? प्रोटॉन और α -कणों से संबद्ध दे ब्रॉग्ली तरंगदैर्घ्यों का अनुपात ज्ञात कीजिए जबकि दोनों कणों को/के
- (a) समान विभवान्तर से त्वरित किया गया है ।
- (b) वेग समान हैं । 3
32. किसी श्रेणी LCR प्रत्यावर्ती धारा (ac) परिपथ में $L = 2.0 \text{ H}$, $C = 32 \mu\text{F}$ तथा $R = 10 \Omega$ है ।
- (a) प्रत्यावर्ती धारा (ac) की किस कोणीय आवृत्ति पर यह अनुनाद करेगा ?
- (b) इस परिपथ का Q मान परिकलित कीजिए । 3
- अथवा**
- $\frac{5}{\pi} \text{ H}$ प्रेरकत्व का कोई आदर्श प्रेरक 200 V, 50 Hz की प्रत्यावर्ती धारा (ac) आपूर्ति से संयोजित है ।
- (a) इस प्रेरक में धारा का वर्ग-माध्य-मूल (rms) और शिखर मान परिकलित कीजिए ।
- (b) प्रेरक से प्रवाहित धारा और अनुप्रयुक्त वोल्टता के बीच कलान्तर क्या है ? यदि परिपथ में इस प्रेरक के साथ श्रेणी में कोई छोटा प्रतिरोध संयोजित कर दिया जाए, तो कलान्तर में क्या परिवर्तन होगा ? 3
33. (a) आवश्यक किरण आरेख का उपयोग करके अवतल दर्पण के लिए दर्पण सूत्र व्युत्पन्न कीजिए ।
- (b) किसी अवतल दर्पण के मुख्य अक्ष के अनुदिश स्थित किसी मापक पैमाने (जिसके अंशांकन समदूरस्थ हैं) के विवर्धित प्रतिबिम्ब में अंशांकन समदूरस्थ नहीं होते । व्याख्या कीजिए । 3
34. (a) किसी क्रिस्टलीय ठोस में ऊर्जा-बैंड किस प्रकार बनते हैं ?
- (b) p-प्रकार और n-प्रकार के अर्धचालकों के लिए ऊर्जा बैंड आरेख खींचिए । इन आरेखों में दाता/ग्राही ऊर्जा स्तरों को चित्रित कीजिए तथा इनके महत्त्व लिखिए । 3



- (b) The nuclear forces are not coulomb forces between nucleons. Explain.
- (c) Draw a plot of the potential energy between a pair of nucleons as a function of distance between them inside a nucleus. 3

31. What are matter waves ? Find the ratio of de Broglie wavelengths associated with proton and alpha particles when both particles

- (a) are accelerated through the same potential difference.
- (b) have same velocity. 3

32. A series LCR ac circuit has $L = 2.0 \text{ H}$, $C = 32 \mu\text{F}$ and $R = 10 \Omega$.

- (a) At what angular frequency of ac will it resonate ?
- (b) Calculate the Q value of the circuit. 3

OR

An ideal inductor of $\frac{5}{\pi} \text{ H}$ inductance is connected to a 200 V, 50 Hz ac supply.

- (a) Calculate the rms and peak value of current in the inductor.
- (b) What is the phase difference between current through the inductor and the applied voltage ? How will it change if a small resistance is connected in series with this inductor in the circuit ? 3

33. (a) Using the necessary ray diagram, derive the mirror formula for a concave mirror.

- (b) In the magnified image of a measuring scale (with equidistant markings) lying along the principal axis of a concave mirror, the markings are not equidistant. Explain. 3

34. (a) How are energy bands formed in a crystalline solid ?

- (b) Draw the energy band diagrams for p-type and n-type semiconductors. Depict the donor/acceptor energy levels in these diagrams and write their significance. 3



खण्ड घ

35. (a) समतल ध्रुवित प्रकाश से क्या तात्पर्य है ? अपवर्तनांक μ के काँच के पृष्ठ पर कोण θ बनाते हुए कोई अध्रुवित प्रकाश आपतन करता है । यदि परावर्तित और अपवर्तित किरणें एक-दूसरे के लम्बवत् हैं, तो μ और θ के बीच संबंध प्राप्त कीजिए ।
- (b) दो पोलैरोइडों P_1 और P_2 को क्रॉसित स्थिति में रखा गया है । तीव्रता I_0 का अध्रुवित प्रकाश P_1 पर आपतन करता है । यदि P_1 को स्थिर रखते हुए P_2 को प्रकाश के संचरण की दिशा के परितः θ कोण पर घूर्णित किया जाए, तो $0^\circ < \theta < 360^\circ$ के लिए उस प्रकाश की तीव्रता के लिए ग्राफ खींचिए जो (i) P_1 द्वारा पारगमित, तथा (ii) P_2 द्वारा पारगमित होता है ।

5

अथवा

- (a) प्रकाश के व्यतिकरण के यंग के द्वि-झिरी प्रयोग का संक्षेप में वर्णन कीजिए । इस पैटर्न में फ्रिंज चौड़ाई के लिए व्यंजक व्युत्पन्न कीजिए ।
- (b) वायु से जल में अन्तरापृष्ठ पर तरंगदैर्घ्य 588 nm का एकवर्णी प्रकाश आपतन करता है । अपवर्तित प्रकाश की तरंगदैर्घ्य और चाल ज्ञात कीजिए । जल का अपवर्तनांक $\frac{4}{3}$ है ।

5

36. (a) द्विध्रुव आघूर्ण \vec{p} के किसी विद्युत् द्विध्रुव को किसी एकसमान विद्युत्-क्षेत्र \vec{E} में θ कोण बनाते हुए रखा गया है । इस पर कार्यरत बल-आघूर्ण ($\vec{\tau}$) के लिए व्यंजक व्युत्पन्न कीजिए । विद्युत्-क्षेत्र के सापेक्ष द्विध्रुव का वह विन्यास ज्ञात कीजिए जिसमें उस पर बल-आघूर्ण (i) अधिकतम, और (ii) अधिकतम का आधा है ।
- (b) दो बिन्दु आवेश $q_1 = + 1 \mu\text{C}$ और $q_2 = + 4 \mu\text{C}$ वायु में एक-दूसरे से 2 m दूरी पर स्थित हैं । इन दोनों आवेशों को मिलाने वाली रेखा के अनुदिश q_1 से किस दूरी पर दोनों आवेशों के कारण नेट विद्युत्-क्षेत्र शून्य होगा ?

5

अथवा



SECTION D

35. (a) What is meant by plane polarised light ? An unpolarised light is incident at an angle θ on the surface of glass of refractive index μ . If the reflected and refracted rays are perpendicular to each other, then obtain the relationship between μ and θ .
- (b) Two polaroids P_1 and P_2 are placed in a crossed position. Unpolarised light of intensity I_0 is incident on P_1 . If P_2 is rotated through an angle θ about the direction of propagation of light, keeping P_1 fixed, plot the graph of intensity of light for $0^\circ < \theta < 360^\circ$ which is (i) transmitted by P_1 , and (ii) transmitted by P_2 .

5

OR

- (a) Briefly describe the Young's double slit experiment of interference of light. Drive the expression for fringe width in the pattern.
- (b) Monochromatic light of wavelength 588 nm is incident from air to water interface. Find the wavelength and speed of the refracted light. The refractive index of water is $\frac{4}{3}$.
36. (a) An electric dipole of dipole moment \vec{p} is placed in a uniform electric field \vec{E} at an angle θ with it. Derive the expression for torque ($\vec{\tau}$) acting on it. Find the orientation of the dipole relative to the electric field for which torque on it is (i) maximum, and (ii) half of maximum.
- (b) Two point charges $q_1 = +1 \mu\text{C}$ and $q_2 = +4 \mu\text{C}$ are placed 2 m apart in air. At what distance from q_1 along the line joining the two charges, will the net electric field be zero ?

5

5

OR



- (a) किसी समान्तर पट्टिका संधारित्र, जिसकी धारिता C और जिसे वोल्टता V तक आवेशित किया गया है, में संचित ऊर्जा के लिए व्यंजक व्युत्पन्न कीजिए। संधारित्र में यह ऊर्जा किस प्रकार संचित होती है ?
- (b) $1 \mu\text{F}$ धारिता के किसी संधारित्र को उपेक्षणीय आन्तरिक प्रतिरोध तथा 10 V वि.वा. बल (emf) की किसी बैटरी के सिरो से संयोजित कर आवेशित किया गया है। इस संधारित्र को पूर्ण रूप से आवेशित करने में बैटरी द्वारा आपूर्त किए गए आवेश की मात्रा का परिकलन कीजिए।

5

37. (a) दो धारावाही लम्बे सीधे समान्तर चालकों के बीच प्रति एकांक लम्बाई पर कार्यरत बल के लिए व्यंजक व्युत्पन्न कीजिए। इस प्रकार एक ऐम्पियर की परिभाषा लिखिए।
- (b) दो सीधे लम्बे समान्तर चालक वायु में एक-दूसरे से 12 cm दूरी पर रखे हैं। दोनों तारों से 3 A धारा प्रवाहित हो रही है। आरेख खींचकर यह दर्शाते हुए कि दोनों तारों से प्रवाहित धाराओं की दिशा विपरीत है, इन तारों के मध्य में किसी बिन्दु पर चुम्बकीय क्षेत्र का परिमाण और दिशा ज्ञात कीजिए।

5

अथवा

- (a) साइक्लोट्रॉन का व्यवस्था आरेख खींचिए। किसी आवेशित कण के उस पथ की आकृति की व्याख्या कीजिए जिस पर वह तब गति करता है जब उसे साइक्लोट्रॉन द्वारा त्वरित किया जाता है।
- (b) किसी दिए गए गैल्वेनोमीटर को 2 V , V और $\frac{V}{2}$ वोल्ट परिसरों के वोल्टमीटर में परिवर्तित करने के लिए इस गैल्वेनोमीटर के साथ श्रेणी में संयोजित क्रमशः R_1 , R_2 और R_3 ओम के प्रतिरोधों की आवश्यकता होती है। R_1 , R_2 और R_3 के बीच संबंध प्राप्त कीजिए।

5



- (a) Derive an expression for the energy stored in a parallel plate capacitor of capacitance C when charged up to voltage V . How is this energy stored in the capacitor ?
- (b) A capacitor of capacitance $1 \mu\text{F}$ is charged by connecting a battery of negligible internal resistance and emf 10 V across it. Calculate the amount of charge supplied by the battery in charging the capacitor fully.

5

37. (a) Derive the expression for the force acting per unit length between two long straight parallel current carrying conductors. Hence define one ampere.
- (b) Two long parallel straight conductors are placed 12 cm apart in air. They carry equal currents of 3 A each. Find the magnitude and direction of the magnetic field at a point midway between them (drawing a figure) when the currents in them flow in opposite directions.

5

OR

- (a) Draw the schematic sketch of a cyclotron. Explain the shape of the path on which charged particle moves when the particle is accelerated by it.
- (b) To convert a given galvanometer into a voltmeter of ranges 2 V , V and $\frac{V}{2}$ volt, resistances R_1 , R_2 and R_3 ohm respectively, are required to be connected in series with the galvanometer. Obtain the relationship between R_1 , R_2 and R_3 .

5