

Candidates must write the Code on the title page of the answer-book.

ਰੋਲ ਨੰਬਰ

--	--	--	--	--	--	--

- ਕਿਰਪਾ ਕਰਕੇ ਨਿਰੀਖਣ ਕਰ ਲਵੋ ਕਿ ਇਸ ਪ੍ਰਸ਼ਨ ਪੱਤਰ ਤੇ ਛਪੇ ਹੋਏ 8 ਪੰਨੇ ਹਨ ।
- ਪ੍ਰਸ਼ਨ ਪੱਤਰ ਦੇ ਉੱਪਰ ਸੱਜੇ ਹੱਥ ਦਿੱਤੇ ਗਏ ਕੋਡ ਨੰ. ਨੂੰ ਪ੍ਰੀਖਿਆਰਥੀ ਉੱਤਰ ਪੁਸਤਿਕਾ ਦੇ ਮੁੱਖ ਪੰਨੇ ਤੇ ਜ਼ਰੂਰ ਲਿੱਖਣ ।
- ਕਿਰਪਾ ਕਰਕੇ ਦੇਖ ਲਵੋ ਕਿ ਇਸ ਪ੍ਰਸ਼ਨ ਪੱਤਰ ਵਿਚ 31 ਪ੍ਰਸ਼ਨ ਹਨ ।
- ਕਿਰਪਾ ਕਰਕੇ ਉੱਤਰ ਲਿਖਣਾ ਸ਼ੁਰੂ ਕਰਨ ਤੋਂ ਪਹਿਲਾਂ, ਪ੍ਰਸ਼ਨ ਦਾ ਕ੍ਰਮਾਂਕ (ਸੀਰੀਅਲ ਨੰਬਰ) ਜ਼ਰੂਰ ਲਿੱਖੋ ।
- ਇਸ ਪ੍ਰਸ਼ਨ ਪੱਤਰ ਨੂੰ ਪੜ੍ਹਨ ਦੇ ਲਈ 15 ਮਿੰਟ ਦਾ ਸਮਾਂ ਦਿੱਤਾ ਗਿਆ ਹੈ । ਪ੍ਰਸ਼ਨ ਪੱਤਰ ਸਵੇਰੇ 10.15 ਵਜੇ ਵੰਡੇ ਜਾਣਗੇ । 10.15 ਵਜੇ ਤੋਂ 10.30 ਵਜੇ ਤਕ ਪ੍ਰੀਖਿਆਰਥੀ ਕੇਵਲ ਪ੍ਰਸ਼ਨ ਪੱਤਰ ਨੂੰ ਪੜ੍ਹਨਗੇ ਅਤੇ ਇਸ ਸਮੇਂ ਵਿਚ ਉਹ ਉੱਤਰ ਪੁਸਤਿਕਾ ਵਿਚ ਕੋਈ ਉੱਤਰ ਨਹੀਂ ਲਿਖਣਗੇ ।
- Please check that this question paper contains 8 printed pages.
- Code number given on the right hand side of the question paper should be written on the title page of the answer-book by the candidate.
- Please check that this question paper contains 31 questions.
- **Please write down the Serial Number of the question before attempting it.**
- 15 minute time has been allotted to read this question paper. The question paper will be distributed at 10.15 a.m. From 10.15 a.m. to 10.30 a.m., the students will read the question paper only and will not write any answer on the answer-book during this period.

# ਸੰਕਲਿਤ ਪ੍ਰੀਖਿਆ - II

## SUMMATIVE ASSESSMENT - II

# ਗਣਿਤ

(ਪੰਜਾਬੀ ਉਲਥਾ)

## MATHEMATICS

(Punjabi Version)

ਸਮਾਂ ਸੀਮਾ : 3 ਘੰਟੇ

ਪੂਰਨ ਅੰਕ : 90

Time allowed : 3 hours

Maximum Marks : 90

ਵਿਆਪਕ ਨਿਰਦੇਸ਼ :

- (i) ਸਾਰੇ ਪ੍ਰਸ਼ਨ ਜ਼ਰੂਰੀ ਹਨ ।
- (ii) ਇਸ ਪ੍ਰਸ਼ਨ ਪਤ੍ਰ ਵਿਚ ਕੁਲ 31 ਪ੍ਰਸ਼ਨ ਹਨ ਜੋ ਚਾਰ ਖੰਡਾਂ — ਅ, ਬ, ਸ ਅਤੇ ਦ ਵਿੱਚ ਵੰਡੇ ਹੋਏ ਹਨ ।
- (iii) ਖੰਡ ਅ ਵਿੱਚ ਇੱਕ-ਇੱਕ ਅੰਕ ਵਾਲੇ 4 ਪ੍ਰਸ਼ਨ ਹਨ । ਖੰਡ ਬ ਵਿੱਚ 6 ਪ੍ਰਸ਼ਨ ਹਨ ਜਿਨ੍ਹਾਂ ਵਿੱਚੋਂ ਹਰ ਇੱਕ ਪ੍ਰਸ਼ਨ 2 ਅੰਕ ਦਾ ਹੈ । ਖੰਡ ਸ ਵਿੱਚ 10 ਪ੍ਰਸ਼ਨ ਹਨ ਜਿਨ੍ਹਾਂ ਵਿੱਚੋਂ ਹਰ ਪ੍ਰਸ਼ਨ ਤਿੰਨ-ਤਿੰਨ ਅੰਕ ਦਾ ਹੈ । ਖੰਡ ਦ ਵਿੱਚ 11 ਪ੍ਰਸ਼ਨ ਹਨ ਜਿਨ੍ਹਾਂ ਵਿੱਚੋਂ ਹਰ ਇੱਕ 4 ਅੰਕ ਦਾ ਹੈ ।
- (iv) ਕੈਲਕੁਲੇਟਰ ਆਦਿ ਦੀ ਵਰਤੋਂ ਦੀ ਮਨਾਹੀ ਹੈ ।

## ਖੰਡ ਅ

ਪ੍ਰਸ਼ਨ ਸੰਖਿਆ 1 ਤੋਂ 4 ਤਕ ਹਰ ਇਕ ਪ੍ਰਸ਼ਨ 1 ਅੰਕ ਦਾ ਹੈ ।

1. ਇਕ ਅੰਕਗਣਿਤਿਕ ਲੜੀ, ਜਿਸ ਵਿਚ  $a_{21} - a_7 = 84$  ਹੈ, ਦਾ ਸਾਂਝਾ ਅੰਤਰ ਕੀ ਹੈ ?
2. ਜੇਕਰ ਕਿਸੇ ਬਾਹਰਲੇ ਬਿੰਦੂ P ਤੋਂ a ਅਰਧਵਿਆਸ ਅਤੇ O ਕੇਂਦਰ ਵਾਲੇ ਚੱਕਰ ਤੇ ਖਿੱਚੀਆਂ ਗਈਆਂ ਦੋ ਸਪਰਸ਼ ਰੇਖਾਵਾਂ ਦੇ ਦਰਮਿਆਨ ਦਾ ਕੋਣ  $60^\circ$  ਹੋਵੇ, ਤਾਂ OP ਦੀ ਲੰਬਾਈ ਪਤਾ ਕਰੋ ।
3. ਜੇਕਰ 30 ਮੀ. ਉੱਚੀ ਇਕ ਮੀਨਾਰ, ਧਰਤੀ ਉਪਰ  $10\sqrt{3}$  ਮੀ. ਲੰਬਾ ਪਰਛਾਵਾਂ (ਪ੍ਰਤਿਬਿੰਬ) ਬਣਾਂਦੀ ਹੈ, ਤਾਂ ਸੂਰਜ ਦਾ ਉਚਾਣ ਕੋਣ ਕੀ ਹੈ ?
4. 900 ਸੇਬਾਂ ਦੇ ਇਕ ਢੇਰ ਵਿਚੋਂ ਅਚਾਨਕ ਇਕ ਸੇਬ ਚੁਣਨ ਤੇ ਸੜਿਆ ਹੋਇਆ (ਖਰਾਬ) ਸੇਬ ਕਢਣ ਦੀ ਸੰਭਾਵਨਾ 0.18 ਹੈ । ਢੇਰ ਵਿਚ ਸੜੇ ਹੋਏ (ਖਰਾਬ) ਸੇਬਾਂ ਦੀ ਗਿਣਤੀ ਕੀ ਹੈ ?

## ਖੰਡ ਬ

ਪ੍ਰਸ਼ਨ ਸੰਖਿਆ 5 ਤੋਂ 10 ਤਕ ਹਰ ਇਕ ਪ੍ਰਸ਼ਨ ਦੇ 2 ਅੰਕ ਹਨ ।

5. p ਦਾ ਉਹ ਮਾਨ ਪਤਾ ਕਰੋ ਜਿਸਦੇ ਲਈ ਦੋਘਾਤੀ ਸਮੀਕਰਣ  $px^2 - 14x + 8 = 0$  ਦਾ ਇਕ ਮੂਲ ਦੂਸਰੇ ਦਾ 6 ਗੁਣਾ ਹੈ ।
6. ਲੜੀ  $20, 19\frac{1}{4}, 18\frac{1}{2}, 17\frac{3}{4}, \dots$  ਦਾ ਕਿਤਨਵਾਂ ਪਦ ਪੈਹਲਾ ਰਿਣਾਤਮਕ ਪਦ ਹੈ ?
7. ਸਿੱਧ ਕਰੋ ਕਿ ਚੱਕਰ ਦੀ ਕਿਸੇ ਵਤਰ (ਜੀਵਾ) ਦੇ ਸਿਰੇ ਬਿੰਦੂਆਂ ਤੇ ਖਿੱਚੀਆਂ ਗਈਆਂ ਸਪਰਸ਼ ਰੇਖਾਵਾਂ ਵਤਰ ਦੇ ਨਾਲ ਬਰਾਬਰ ਕੋਣ ਬਣਾਂਦੀਆਂ ਹਨ ।

8. ਇਕ ਚੱਕਰ ਕਿਸੇ ਚਤੁਰਭੁਜ ABCD ਦੀਆਂ ਸਾਰੇ ਚਾਰਾਂ ਭੁਜਾਵਾਂ ਨੂੰ ਸਪਰਸ਼ ਕਰਦਾ ਹੈ ।  
ਸਿੱਧ ਕਰੋ ਕਿ

$$AB + CD = BC + DA$$

9. ਇਕ ਰੇਖਾ  $y$ -ਧੁਰੇ ਅਤੇ  $x$ -ਧੁਰੇ ਨੂੰ ਕਰਮਵਾਰ ਬਿੰਦੂਆਂ  $P$  ਅਤੇ  $Q$  ਉਪਰ ਕਟਦੀ ਹੈ ।  
ਜੇਕਰ  $(2, -5)$ ,  $PQ$  ਦਾ ਮੱਧ ਬਿੰਦੂ ਹੈ, ਤਾਂ  $P$  ਅਤੇ  $Q$  ਦੇ ਨਿਰਦੇਸ਼-ਅੰਕ ਪਤਾ ਕਰੋ ।
10. ਜੇਕਰ  $P(x, y)$  ਦੀਆਂ  $A(5, 1)$  ਅਤੇ  $B(-1, 5)$  ਤੋਂ ਦੂਰੀਆਂ ਬਰਾਬਰ ਹੋਣ, ਤਾਂ ਸਿੱਧ  
ਕਰੋ ਕਿ  $3x = 2y$ .

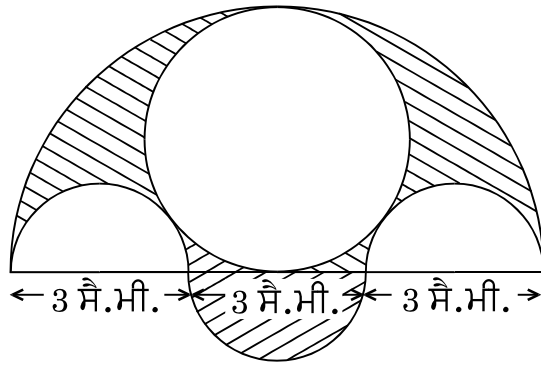
### ਖੰਡ ਸ

ਪ੍ਰਸ਼ਨ ਸੰਖਿਆ 11 ਤੋਂ 20 ਤਕ ਹਰ ਇਕ ਪ੍ਰਸ਼ਨ ਦੇ 3 ਅੰਕ ਹਨ ।

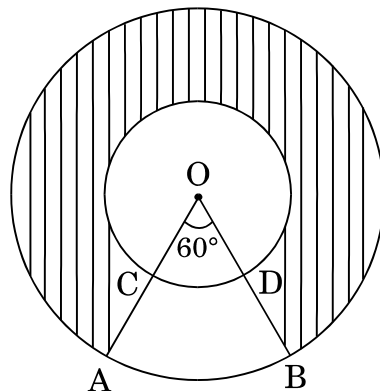
11. ਜੇਕਰ  $ad \neq bc$  ਹੈ, ਤਾਂ ਸਿੱਧ ਕਰੋ ਕਿ ਸਮੀਕਰਣ  
 $(a^2 + b^2)x^2 + 2(ac + bd)x + (c^2 + d^2) = 0$  ਦਾ ਕੋਈ ਵਾਸਤਵਿਕ ਮੂਲ ਨਹੀਂ ਹੈ ।
12. ਇਕ ਅੰਕਗਣਿਤਿਕ ਲੜੀ ਦਾ ਪੈਹਲਾ ਪਦ 5, ਅੰਤਲਾ ਪਦ 45 ਅਤੇ ਸਾਰੇ ਪਦਾਂ ਦਾ ਜੋੜ  
400 ਹੈ । ਇਸ ਅੰਕਗਣਿਤਿਕ ਲੜੀ ਦੇ ਪਦਾਂ ਦੀ ਗਿਣਤੀ ਅਤੇ ਸਾਂਝਾ ਅੰਤਰ ਪਤਾ  
ਕਰੋ ।
13. ਇਕ ਮੀਨਾਰ ਦੇ ਆਧਾਰ ਤੋਂ ਗੁਜਰਨ ਵਾਲੀ ਸਿਧੀ ਰੇਖਾ ਉਪਰ ਆਧਾਰ ਤੋਂ ਕਰਮਵਾਰ  
4 ਮੀ. ਅਤੇ 16 ਮੀ. ਦੂਰੀਆਂ ਉਪਰ ਦੋ ਬਿੰਦੂ  $C$  ਅਤੇ  $D$  ਸਥਿਤ ਹਨ । ਜੇਕਰ  $C$  ਅਤੇ  
 $D$  ਤੋਂ ਮੀਨਾਰ ਦੇ ਸਿਖਰ ਦੇ ਉਚਾਣ ਕੋਣ ਇਕ ਦੂਜੇ ਦੇ ਪੂਰਕ ਹੋਣ, ਤਾਂ ਮੀਨਾਰ ਦੀ  
ਉਚਾਈ ਪਤਾ ਕਰੋ ।
14. ਇਕ ਥੈਲੇ ਵਿਚ 15 ਸਫੈਦ ਅਤੇ ਕੁਝ ਕਾਲੀਆਂ ਗੋਂਦਾਂ ਹਨ । ਜੇਕਰ ਥੈਲੇ ਵਿਚੋਂ ਇਕ  
ਕਾਲੀ ਗੋਂਦ ਕੱਢਣ ਦੀ ਸੰਭਾਵਨਾਂ ਇਕ ਸਫੈਦ ਗੋਂਦ ਕੱਢਣ ਦੀ ਸੰਭਾਵਨਾਂ ਦੀ ਤਿੰਨ ਗੁਣੀ  
ਹੈ, ਤਾਂ ਥੈਲੇ ਵਿਚ ਕਾਲੀਆਂ ਗੋਂਦਾਂ ਦੀ ਗਿਣਤੀ ਪਤਾ ਕਰੋ ।

15. ਬਿੰਦੂ  $\left(\frac{24}{11}, y\right)$ , ਬਿੰਦੂਆਂ  $P(2, -2)$  ਅਤੇ  $Q(3, 7)$  ਨੂੰ ਮਿਲਾਉਣ ਵਾਲੇ ਰੇਖਾਖੰਡ ਨੂੰ ਕਿਸ ਅਨੁਪਾਤ ਵਿਚ ਵੰਡਦਾ ਹੈ ?  $y$  ਦਾ ਮਾਨ ਵੀ ਪਤਾ ਕਰੋ ।

16. ਦਿੱਤੇ ਗਏ ਚਿੱਤਰ ਵਿਚ, ਹਰ ਇਕ 3 ਸੈ.ਮੀ. ਵਿਆਸ ਦੇ ਤਿੰਨ ਅਰਧ ਚੱਕਰ, 4.5 ਸੈ.ਮੀ. ਵਿਆਸ ਦਾ ਇਕ ਚੱਕਰ ਅਤੇ 4.5 ਸੈ.ਮੀ. ਅਰਧਵਿਆਸ ਦਾ ਇਕ ਅਰਧ ਚੱਕਰ ਬਣਾਏ ਗਏ ਹਨ । ਛਾਇਆਕ੍ਰਿਤ (ਸ਼ੇਡਿਡ) ਭਾਗ ਦਾ ਖੇਤਰਫਲ ਪਤਾ ਕਰੋ ।



17. ਦਿੱਤੇ ਗਏ ਚਿੱਤਰ ਵਿਚ,  $O$  ਕੇਂਦਰ ਵਾਲੇ ਦੋ ਸਮਕੋਂਦਰੀ ਚੱਕਰਾਂ ਦੇ ਅਰਧਵਿਆਸ 21 ਸੈ.ਮੀ. ਅਤੇ 42 ਸੈ.ਮੀ. ਹਨ । ਜੇਕਰ  $\angle AOB = 60^\circ$  ਹੈ, ਤਾਂ ਛਾਇਆਕ੍ਰਿਤ (ਸ਼ੇਡਿਡ) ਭਾਗ ਦਾ ਖੇਤਰਫਲ ਪਤਾ ਕਰੋ ।  $[\pi = \frac{22}{7}$  ਲਵੋ ]



18. 5.4 ਮੀ. ਚੌੜੀ ਅਤੇ 1.8 ਮੀ. ਡੂੰਘੀ ਇਕ ਨੈਹਰ ਵਿਚ ਪਾਣੀ 25 ਕਿ.ਮੀ./ਘੰਟਾ ਦੀ ਚਾਲ ਨਾਲ ਵਗ ਰਿਹਾ ਹੈ । ਇਸ ਵਿੱਚੋਂ 40 ਮਿੰਟ ਵਿਚ ਕਿਤਨੇ ਖੇਤਰਫਲ ਦੀ ਸਿੰਜਾਈ ਹੋ ਸਕਦੀ ਹੈ, ਜੇਕਰ ਸਿੰਜਾਈ ਦੇ ਲਈ 10 ਸੈ.ਮੀ. ਡੂੰਘੇ ਪਾਣੀ ਦੀ ਜ਼ਰੂਰਤ ਹੈ ?
19. ਇਕ ਸ਼ੰਕੂ ਦੇ ਛਿੰਨਕ ਦੀ ਤਿਰਛੀ ਉਚਾਈ 4 ਸੈ.ਮੀ. ਹੈ ਅਤੇ ਇਸਦੇ ਚੱਕਰੀ ਸਿਰਿਆਂ ਦੇ ਪਰਿਮਾਪ 18 ਸੈ.ਮੀ. ਅਤੇ 6 ਸੈ.ਮੀ. ਹਨ । ਇਸ ਛਿੰਨਕ ਦੇ ਵਕਰ ਸਤ੍ਹਾ (ਤਲ) ਦਾ ਖੇਤਰਫਲ ਪਤਾ ਕਰੋ ।
20. ਇਕ ਠੋਸ ਲੋਹੇ ਦੇ ਘਣਾਵ ਦੀਆਂ ਆਯਾਮ 4.4 ਮੀ.  $\times$  2.6 ਮੀ.  $\times$  1.0 ਮੀ. ਹਨ । ਇਸ ਨੂੰ ਪਿਘਲਾ ਕੇ 30 ਸੈ.ਮੀ. ਅੰਦਰੂਨੀ ਅਰਧਵਿਆਸ ਅਤੇ 5 ਸੈ.ਮੀ. ਮੌਟਾਈ ਦਾ ਬੋਖਲਾ ਸਿਲੰਡਰ ਆਕਾਰ ਪਾਈਪ ਬਣਾਇਆ ਗਿਆ ਹੈ । ਪਾਈਪ ਦੀ ਲੰਬਾਈ ਪਤਾ ਕਰੋ ।

### ਖੰਡ ਦ

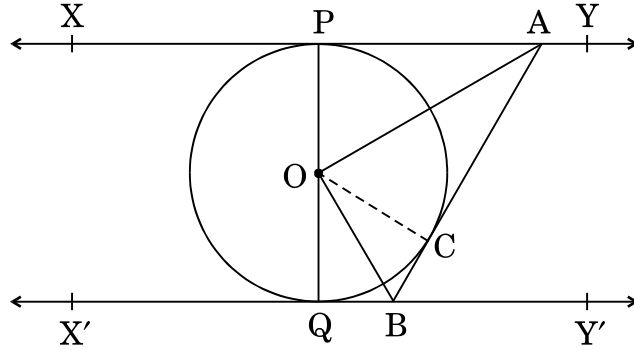
ਪ੍ਰਸ਼ਨ ਸੰਖਿਆ 21 ਤੋਂ 31 ਤਕ ਹਰ ਇਕ ਪ੍ਰਸ਼ਨ ਦੇ 4 ਅੰਕ ਹਨ ।

21.  $x$  ਦੇ ਲਈ ਹਲ ਕਰੋ :

$$\frac{1}{x+1} + \frac{3}{5x+1} = \frac{5}{x+4}, \quad x \neq -1, -\frac{1}{5}, -4$$

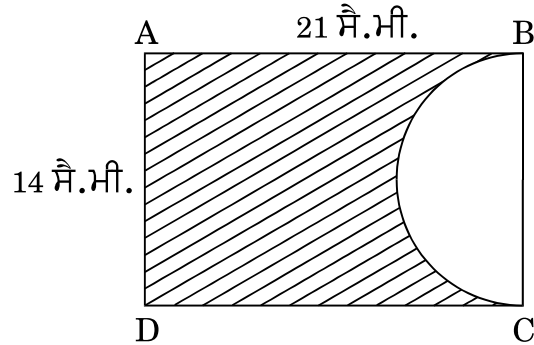
22. ਦੋ ਨਲਕੇ ਇਕੱਠੇ ਇਕ ਟੈਂਕ ਨੂੰ  $3\frac{1}{13}$  ਘੰਟੇ ਵਿਚ ਭਰਦੇ ਹਨ । ਜੇਕਰ ਇਕ ਨਲਕਾ ਟੈਂਕ ਨੂੰ ਭਰਨ ਵਿਚ ਦੂਜੇ ਨਲਕੇ ਤੋਂ 3 ਘੰਟੇ ਜ਼ਿਆਦਾ ਲਗਾਂਦਾ ਹੈ ਤਾਂ ਹਰ ਇਕ ਨਲਕਾ ਟੈਂਕ ਨੂੰ ਭਰਨ ਵਿਚ ਕਿਨਾਂ ਸਮਾਂ ਲਏਗਾ ?
23. ਜੇਕਰ ਦੋ ਅੰਕਗਣਿਤਿਕ ਲੜੀਆਂ ਦੇ ਪੈਹਲੇ  $n$  ਪਦਾਂ ਦੇ ਜੋੜਾਂ ਵਿਚ ਅਨੁਪਾਤ  $(7n + 1) : (4n + 27)$  ਹੈ ਤਾਂ ਉਨ੍ਹਾਂ ਦੇ 9ਵੇਂ ਪਦਾਂ ਵਿਚ ਅਨੁਪਾਤ ਪਤਾ ਕਰੋ ।
24. ਸਿੱਧ ਕਰੋ ਕਿ ਇਕ ਚੱਕਰ ਦੇ ਕਿਸੇ ਬਾਹਰੀ ਬਿੰਦੂ ਤੋਂ ਚੱਕਰ ਤੇ ਖਿੱਚੀਆਂ ਗਈਆਂ ਦੋ ਸਪਰਸ਼ ਰੇਖਾਵਾਂ ਦੀਆਂ ਲੰਬਾਈਆਂ ਬਰਾਬਰ ਹੁੰਦੀਆਂ ਹਨ ।

25. ਦਿੱਤੇ ਗਏ ਚਿੱਤਰ ਵਿਚ  $XY$  ਅਤੇ  $X'Y'$ ,  $O$  ਕੇਂਦਰ ਵਾਲੇ ਚੱਕਰ ਦੀਆਂ ਦੋ ਸਮਾਂਤਰ ਸਪਰਸ਼ ਰੇਖਾਵਾਂ ਹਨ ਅਤੇ ਇਕ ਹੋਰ ਸਪਰਸ਼ ਰੇਖਾ  $AB$ , ਜਿਸਦਾ ਸਪਰਸ਼ ਬਿੰਦੂ  $C$  ਹੈ,  $XY$  ਨੂੰ  $A$  ਅਤੇ  $X'Y'$  ਨੂੰ  $B$  ਉਪਰ ਕਟਦੀ ਹੈ। ਸਿੱਧ ਕਰੋ ਕਿ  $\angle AOB = 90^\circ$ .



26. ਇਕ ਤ੍ਰਿਭੁਜ  $ABC$  ਦੀ ਰਚਨਾ ਕਰੋ, ਜਿਸ ਵਿਚ ਭੁਜਾ  $BC = 7$  ਸੈ.ਮੀ.  $\angle B = 45^\circ$ ,  $\angle A = 105^\circ$  ਹੋਣ। ਹੁਣ ਇਕ ਹੋਰ ਤ੍ਰਿਭੁਜ ਦੀ ਰਚਨਾ ਕਰੋ ਜਿਸਦੀਆਂ ਭੁਜਾਵਾਂ  $\Delta ABC$  ਦੀਆਂ ਸੰਗਤ ਭੁਜਾਵਾਂ ਦੀ  $\frac{3}{4}$  ਗੁਣਾ ਹੈ।
27. ਇਕ ਹਵਾਈ ਜਹਾਜ਼ ਧਰਤੀ ਤੋਂ 300 ਮੀ. ਦੀ ਉਚਾਈ ਉਪਰ ਉਡ ਰਿਹਾ ਹੈ। ਇਸ ਉਚਾਈ ਉਪਰ ਉਡਦਿਆਂ ਇਸ ਹਵਾਈ ਜਹਾਜ਼ ਤੋਂ ਨਦੀ ਦੇ ਆਪੇ ਵਿਚ ਉਲਟ ਪਾਸੇ ਦੇ ਕਿਨਾਰਿਆਂ ਉਪਰ, ਦੋ ਬਿੰਦੂਆਂ ਉਪਰ ਨੀਵਾਣ ਕੋਣ ਕਰਮਵਾਰ  $45^\circ$  ਅਤੇ  $60^\circ$  ਹਨ। ਨਦੀ ਦੀ ਚੌੜਾਈ ਪਤਾ ਕਰੋ।  $[\sqrt{3} = 1.732$  ਲਓ]
28. ਜੇਕਰ ਬਿੰਦੂ  $A(k + 1, 2k)$ ,  $B(3k, 2k + 3)$  ਅਤੇ  $C(5k - 1, 5k)$  ਸਮਰੇਖੀ ਹਨ, ਤਾਂ  $k$  ਦਾ ਮਾਨ ਪਤਾ ਕਰੋ।
29. ਦੋ ਵੱਖੋ ਵੱਖ ਪਾਸਿਆਂ ਨੂੰ ਇਕਠਿਆਂ ਉਛਾਲਿਆ ਗਿਆ। ਸੰਭਾਵਨਾ ਪਤਾ ਕਰੋ ਕਿ ਪ੍ਰਾਪਤ ਸੰਖਿਆਵਾਂ ਦਾ
- ਜੋੜ ਸਮ ਹੋਵੇਗਾ, ਅਤੇ
  - ਗੁਣਨਫਲ ਸਮ ਹੋਵੇਗਾ।

30. ਦਿੱਤੇ ਗਏ ਚਿੱਤਰ ਵਿਚ ABCD ਇਕ ਆਇਤ ਹੈ ਜਿਸ ਦੀਆਂ ਭੁਜਾਵਾਂ 21 ਸੈ.ਮੀ.  $\times$  14 ਸੈ.ਮੀ. ਹਨ । BC ਨੂੰ ਵਿਆਸ ਮੰਨ ਕੇ ਇਕ ਅਰਧ ਚੱਕਰ ਬਣਾਇਆ ਗਿਆ ਹੈ । ਚਿੱਤਰ ਵਿਚ ਛਾਇਆਕ੍ਰਿਤ (ਸ਼ੇਡਿਡ) ਭਾਗ ਦੇ ਖੇਤਰਫਲ ਅਤੇ ਪਰਿਮਾਪ ਪਤਾ ਕਰੋ ।



31. ਕਿਸੀ ਵਰਖਾ ਜਲ ਸੰਗ੍ਰਹਣ ਪ੍ਰਣਾਲੀ ਵਿਚ, 22 ਮੀ.  $\times$  20 ਮੀ. ਦੀ ਛੱਤ ਤੋਂ ਵਰਖਾ ਦਾ ਜਲ ਵੈਹ ਕੇ 2 ਮੀ. ਆਧਾਰ ਦੇ ਵਿਆਸ ਅਤੇ 3.5 ਮੀ. ਉਚਾਈ ਦੇ ਇਕ ਸਿਲੰਡਰਾਕਾਰ ਟੈਂਕ ਵਿਚ ਇਕੱਠਾ ਹੁੰਦਾ ਹੈ । ਜੇਕਰ ਟੈਂਕ ਪੂਰਾ ਭਰ ਗਿਆ ਹੋਵੇ ਤਾਂ ਪਤਾ ਕਰੋ ਕਿ ਸੈ.ਮੀ. ਵਿਚ ਕਿਤਨੀ ਵਰਖਾ ਹੋਈ । ਜਲ ਸੰਰਖਣ ਬਾਰੇ ਆਪਣੇ ਵੀਚਾਰ ਲਿਖੋ ।